

世界の諸地域②

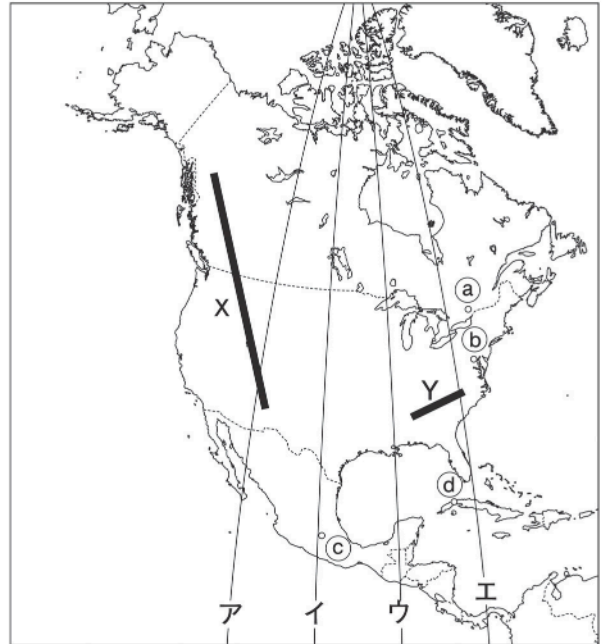
北アメリカ A

🕒 7分

1. 右の略地図を見て、次の問いに答えなさい。

(1) ①～④は、各国の首都を示している。それぞれの都市名を答えなさい。

①	[1]
②	[2]
③	[3]
④	[4]



(2) 高く険しい山が連なるのは、XとYのどちらの山脈か。

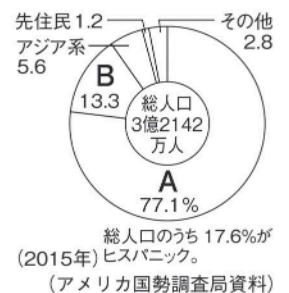
[5]

(3) アメリカでは、西経100度線付近を境に東西で降水量が大きく変わる。西経100度線を地図中のア～エから1つ選び、記号で答えなさい。

[6]

(4) 右のグラフは、アメリカの人種・民族構成を示している。A・Bにあてはまる語句を答えなさい。

A	[7]
B	[8]



(5) 近年アメリカで増加しているヒスパニックとはどのような人々か。母語とする言語を明らかにして、簡単に説明しなさい。

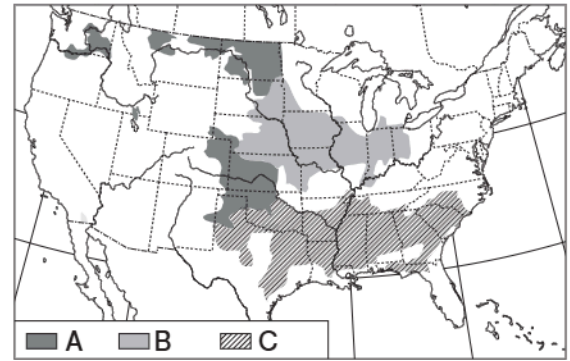
[9]

次ページにつづく▶▶▶

2. 右の略地図を見て、次の問いに答えなさい。

A～Cで栽培されている農作物の組み合わせとして正しいものを次から1つ選び、記号で答えなさい。

- ア A－とうもろこし B－綿花 C－小麦
- イ A－綿花 B－とうもろこし C－小麦
- ウ A－小麦 B－とうもろこし C－綿花
- エ A－小麦 B－綿花 C－とうもろこし



[10]