

日本の特色③「資源と産業・交通と通信」

基本事項の確認

🕒 10分

1. 日本の資源

(1) 次の略地図中とグラフ中の①～③にそれぞれ共通してあてはまる語句を答えなさい。

[1][2][3]

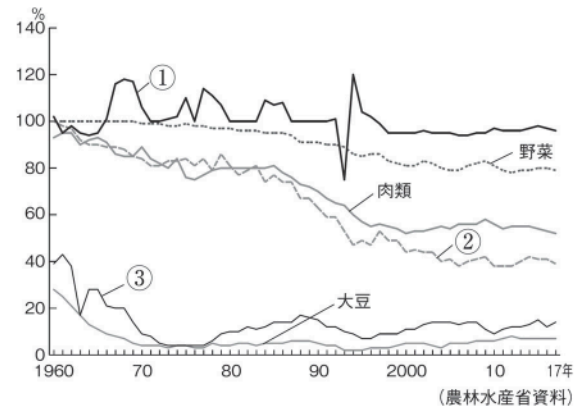


2. 日本の産業

(1) 右のグラフは、日本の品目別食料自給率を表している。グラフ中の①～③にあてはまる農産物を次から1つずつ選び、答えなさい。

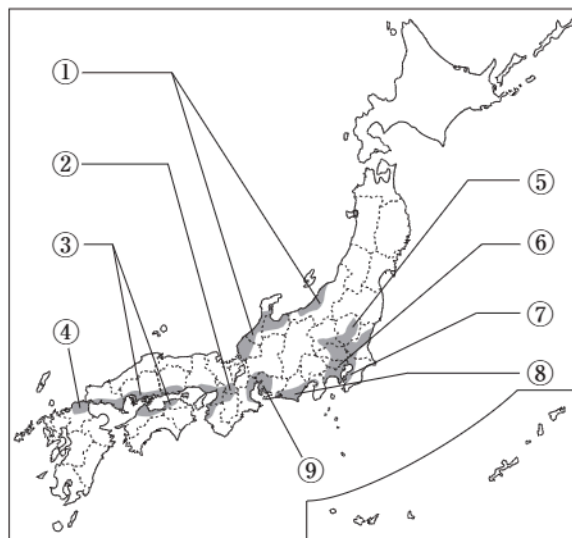
[果実 米 小麦]

[4][5][6]



(2) 次の略地図中の①～⑨の工業地帯・工業地域名を答えなさい。


[7][8][9][10][11][12][13][14][15]



次ページにつづく ▶▶▶

3. 貿易による結びつき

(1) 次のグラフは、日本の輸出入品の変化を表している。グラフ中の①・②にあてはまる語句を答えなさい。 [16][17]



4. 日本の交通・通信網

(1) 次のグラフは、国内輸送の内訳の変化を表している。グラフ中の①～③にあてはまる、自動車・鉄道・船のいずれかの輸送手段を答えなさい。 [18][19][20]

