

世界の諸地域①

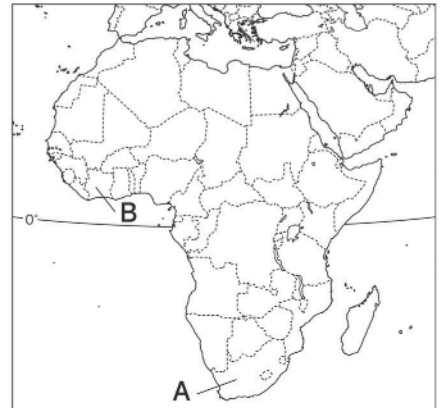
アフリカ B

 7分

1. 右の略地図を見て、次の問いに答えなさい。

(1) 北アフリカの乾燥地域で行われている遊牧とはどのような牧畜か、簡単に説明しなさい。

[1]



(2) グラフ I は、アフリカ東部の高地で生産が盛んな農作物の国別生産量割合を示している。あてはまる農作物を次から1つ選び、記号で答えなさい。

- ア カカオ イ 茶
- ウ 綿花 エ オリーブ



[2]



(3) A国では、マンガンやクロムなどの大変めずらしく生産量が少ない金属が産出する。このような金属を何というか。カタカナ5字で答えなさい。

[3]

(4) グラフ II は、B国の輸出品割合を示している。グラフ II が示すように、特定の一次産品の輸出にたよる経済を何というか。


[4]

次ページにつづく▶▶▶

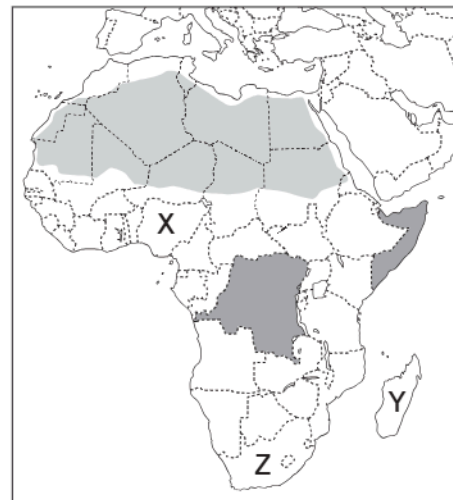
2. 右の略地図を見て、次の問いに答えなさい。

- (1) 1991年まで有色人種を差別するアパルトヘイトを行っていた国を地図中のX～Zから1つ選び、記号と国名を答えなさい。

記号	[5]
国名	[6]

- (2)  の国々では、隣国などへ逃れる難民が多く発生している。その理由の一つについて述べた次の文中の()に共通してあてはまる語句を答えなさい。

ヨーロッパ諸国によって植民地化された時代に、()の分布を無視して土地が分割された影響で、()紛争が絶えないため。



[7]
