

世界の諸地域①

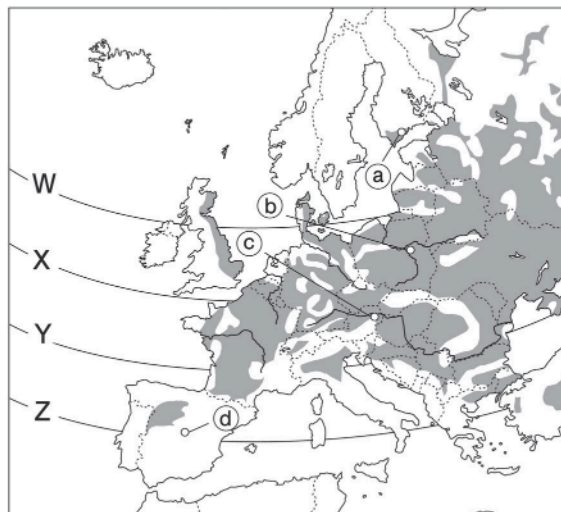
# ヨーロッパ A

 7分

1. 右の略地図を見て、次の問いに答えなさい。

(1) ①a～①dは、各国の首都を示している。それぞれの都市名を答えなさい。

①a	[1]
①b	[2]
①c	[3]
①d	[4]




(2) 日本の秋田県や岩手県を通る北緯40度線を地図中のW～Zから1つ選び、記号で答えなさい。

[5]
-----

(3) ①西ヨーロッパの大部分の地域の気候の特色、②地中海沿岸地域の気候の特色を、次の条件をそれぞれ満たして説明しなさい。

条件：①は海流と風の名称を明示、②は「冬」「夏」の語句を使用。

①	[6]
②	[7]

(4)  で分布を示した農業について述べた文として適当なものを次から1つ選び、記号で答えなさい。

- ア 夏にぶどうなどの果物、冬に小麦を栽培する。
- イ 温暖な気候を利用して、米の二期作を行っている。
- ウ 乳牛を飼育して生乳や乳製品を生産する。
- エ 穀物栽培と家畜の飼育を組み合わせている。

[8]
-----

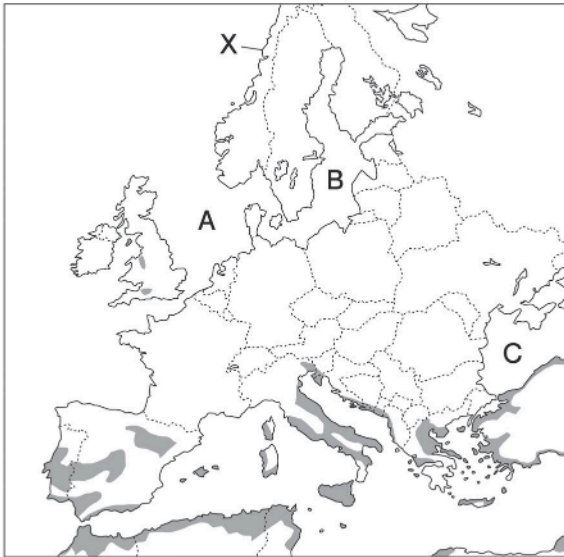
次ページにつづく▶▶▶

2. 右の略地図を見て、次の問いに答えなさい。

(1) A～Cの海の組み合わせとして正しいものを次から1つ選び、記号で答えなさい。

- ア A－北海 B－バルト海 C－黒海  
イ A－バルト海 B－北海 C－地中海  
ウ A－北海 B－地中海 C－黒海  
エ A－バルト海 B－黒海 C－地中海

[9]



(2) Xの半島に見られる、氷河がけずった谷に海水が入り込んでできた湾のことを何というか。

[10]

(3) ●は、地中海式農業が行われている地域を示している。地中海式農業とはどのような農業か。「夏」「冬」の語句を用いて説明しなさい。

[11]