

世界の諸地域 Part 1

# アジア C

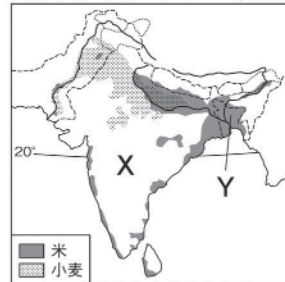
🕒 7分

1. 右の略地図を見て、次の問いに答えなさい。

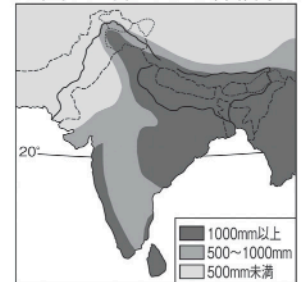
(1) 地図Ⅰと地図Ⅱからわかる、南アジアの農業と気候の関係について説明しなさい。

[1]

地図Ⅰ 南アジアの農業



地図Ⅱ 南アジアの年間降水量



グラフⅠ



グラフⅡ



(2) X国で近年急成長している情報通信技術産業を何というか。アルファベット3字をふくめた語句で答えなさい。

[2]

(3) グラフⅠは、Y国の輸出品を示している。Aにあてはまる品目を次から1つ選び、記号で答えなさい。

- ア 衣類    イ 機械類    ウ 原油    エ 自動車

[3]

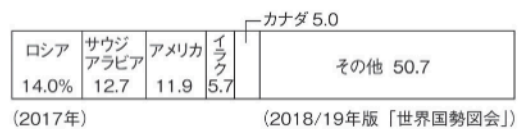
(4) グラフⅡは、日本の原油の輸入国を示している。Bにあてはまる国を次から1つ選び、記号で答えなさい。

- ア トルコ    イ サウジアラビア    ウ カザフスタン    エ インド

[4]

2. 次の問いに答えなさい。

(1) 右のグラフは、ある鉱産資源の生産量割合を示している。この鉱産資源を次から1つ選び、記号で答えなさい。

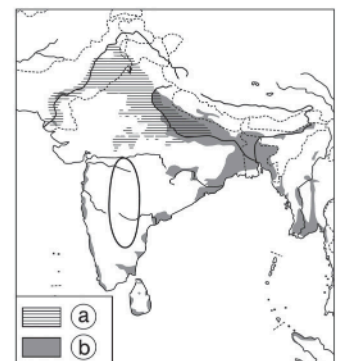


- ア 石炭    イ 原油  
ウ 鉄鉱石    エ ダイヤモンド

[5]

(2) 中央アジアの国々では、クロムなど生産量がきわめて少ない希少金属を産出する。このような希少金属を何というか。カタカナで答えなさい。

[6]



(3) 南アジアの米の生産地を示しているものを右の地図中の①・②から1つ選び、記号で答えなさい。

[7]