

世界の諸地域 Part 1

アジア A

 7分

1. 右の略地図を見て、次の問いに答えなさい。

(1) 地図 I の①・②は、モンゴルと中国の首都を示している。それぞれの都市名を答えなさい。

①		[1]
②		[2]

(2) 地図 I の X はある少数民族の分布を示している。X に住む少数民族を次から 1 つ選び、記号で答えなさい。

- ア モンゴル族 イ ウイグル族
ウ カザフ族 エ チベット族

[3]

(3) 地図 I と地図 II からわかる、中国の小麦と米の生産と気候の関係について説明しなさい。

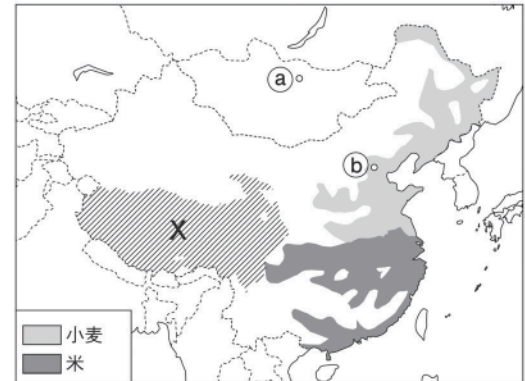
[4]

(4) 現在の中国について述べた文として不適当なものを次から 1 つ選び、記号で答えなさい。

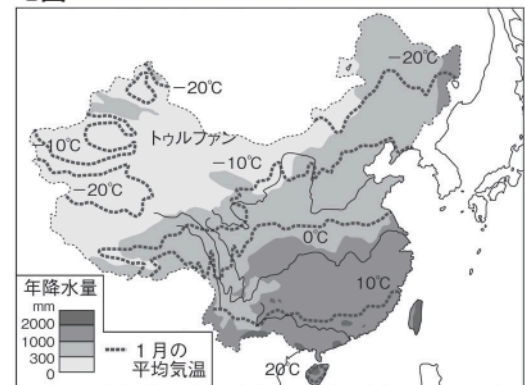
- ア 多くの外国企業が中国に進出しているのは、労働者の賃金が安く、労働力が豊富なためである。
イ 中国は人口が多いため、世界からは「工場」としてだけでなく市場としての期待も大きい。
ウ 中国は沿海部に経済特区を設け、そこに外国企業が進出して工業が発展した。このため、沿海部と内陸部の経済格差や貧富の差が出てきている。
エ ホンコンと台湾はイギリスの植民地となっていたが、20 世紀の終わりに中国へ返還され、どちらの地域でも一国二制度という自由経済のしくみがとられている。

[5]

地図 I



地図 II

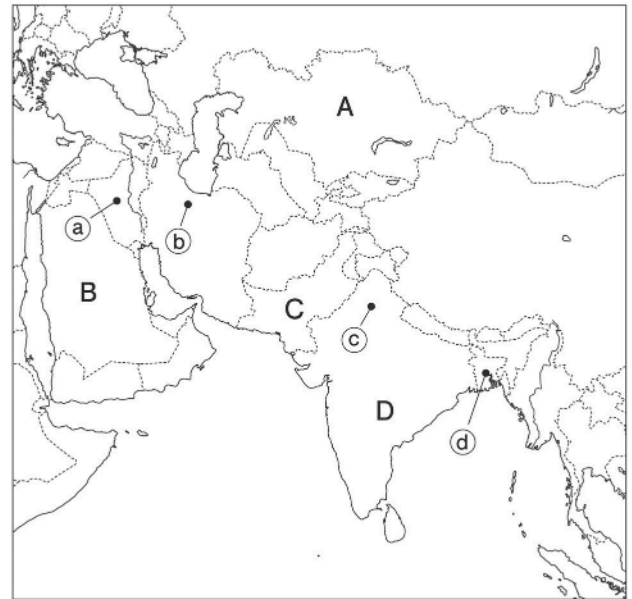


次ページにつづく ▶▶▶

2. 右の略地図を見て、次の問いに答えなさい。

(1) ㉑～㉔は、各国の首都を示している。
それぞれの都市名を答えなさい。

㉑	[6]
㉒	[7]
㉓	[8]
㉔	[9]



(2) 人口が世界第2位の国をA～Dから1つ選び、記号と国名を答えなさい。

記号	[10]	国名	[11]
----	------	----	------

(3) 自然・宗教・民族について述べた文として**不適当なもの**を次から1つ選び、記号で答えなさい。

ア A国は世界最大の湖に面している。また、A国は世界最大の内陸国である。多くの人がイスラム教を信仰している。

イ B国にはこの地域に住む多くの人々が信仰しているイスラム教の聖地があり、世界中から巡礼者が訪れる。

ウ 高地から流れ出たインダス川がC国を流れ、アラビア海に注いでいる。多くの人がイスラム教を信仰している。

エ D国には数百の言語があり英語が共通語となっている。多くの人がこの国で生まれた仏教を信仰している。

[12]
