

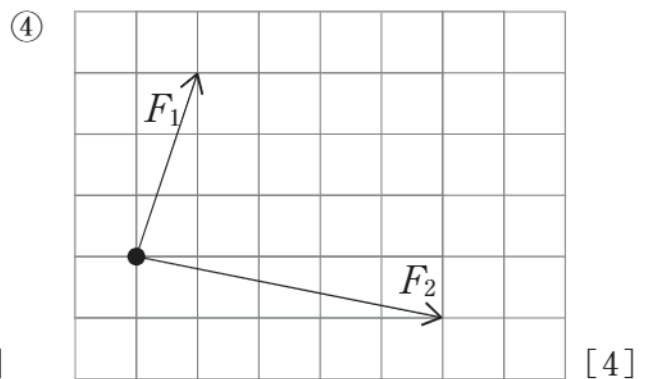
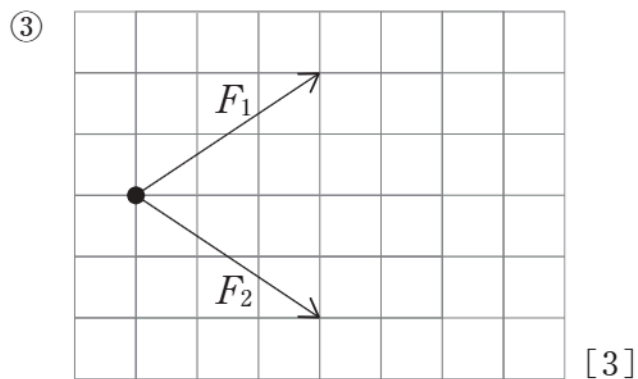
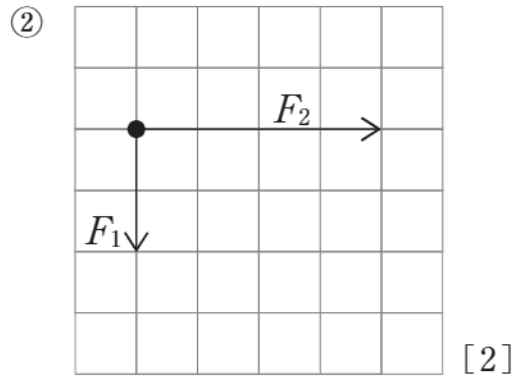
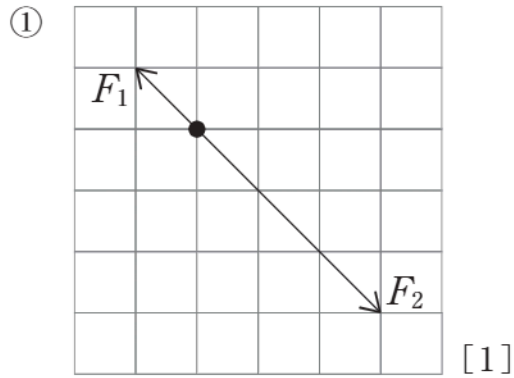
力のはたらき方

# 力の合成と分解の作図 **B**

 8分

1. 力の合成と分解について、次の問いに答えなさい。

(1) 次の①～④の力  $F_1$  と  $F_2$  の合力を作図しなさい。



次ページにつづく ▶▶▶

(2) 次の①, ②は, 力  $F$  の点線方向の分力を, ③, ④は重力の斜面に平行な分力と垂直な分力をそれぞれ作図しなさい。

