

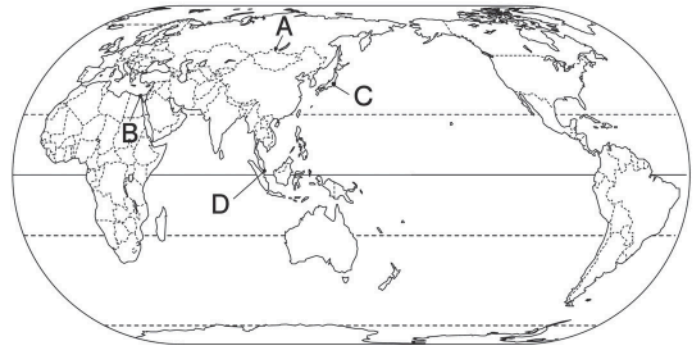
世界の人々の生活と環境

世界の人々の生活と環境 C

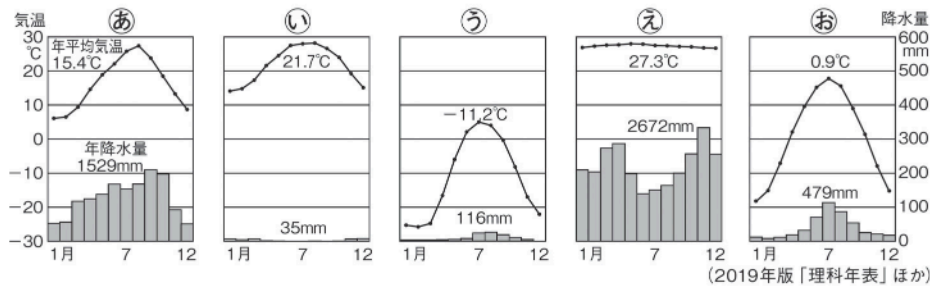
🕒 7分

1. 右の略地図を見て、次の問いに答えなさい。

- (1) A～Cの都市の気候にあてはまる雨温図をグラフⅠのあ～おから1つずつ選び、記号で答えなさい。



グラフⅠ



A	[1]
B	[2]
C	[3]

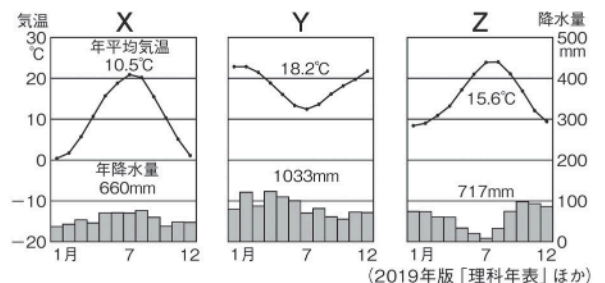
- (2) Dの都市の気候の特色を述べた文として最も適当なものを次から1つ選び、記号で答えなさい。

- ア 時期によって気温と降水量が大きく異なる、四季の変化がはっきりした気候である。
- イ 降水量には変化があるが、気温は一年を通してほとんど変わらない日本の春のような気候である。
- ウ 一年を通して降水量が少なく、雨がわずかに降るところでは、たけの短い草が生える。
- エ 一年を通して気温が高く降水量が多い。樹木が生いしげる密林が見られる。

[4]

- (3) グラフⅡは、温帯をさらに3つに分けた場合のいずれかの気候の特色を示している。X・Yが示す気候を、それぞれ何というか。

グラフⅡ



X	[5]
Y	[6]

次ページにつづく ▶▶▶

2. 次の問いに答えなさい。

(1) 右のイラストは、ある宗教の寺院である。この宗教を次から1つ選び、記号で答えなさい。

- ア キリスト教 イ イスラム教
ウ ヒンドゥー教 エ 仏教



[7]

(2) 主にインドで信仰されている宗教では、ある動物を神聖なものとしているため信者はその肉を食べない。この宗教を(1)のア～エから1つ選び、記号で答えなさい。また、この動物の名を答えなさい。

記号	[8]
語句	[9]

(3) 仏教は、古代の(①)で(②)が始め、主にアジアに広まっていった。()にあてはまる語句を答えなさい。

①	[10]
②	[11]