

世界の人々の生活と環境

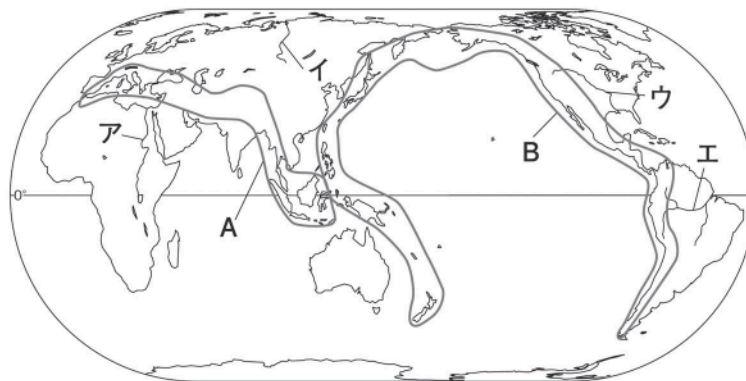
世界の人々の生活と環境 B

🕒 7分

1. 右の略地図を見て、次の問いに答えなさい。

(1) 次の①・②の [] 中の国が属する造山帯は、地図中のA・Bのどちらか。

- ① [ニュージーランド 日本]
- ② [インドネシア フランス]



①	[1]
②	[2]

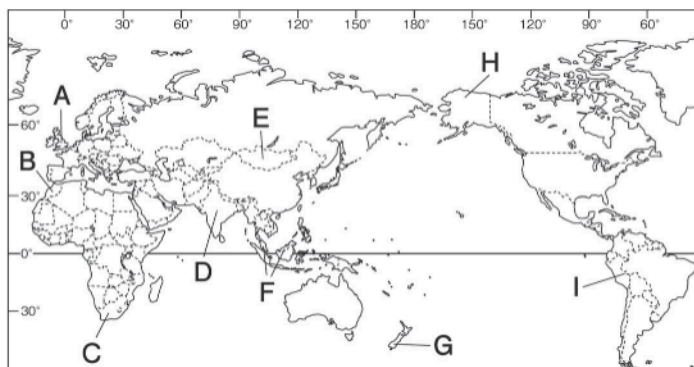
(2) 世界で最も流域面積が広い川を地図中のア～エから1つ選び、記号と河川名を答えなさい。

記号	[3]	河川名	[4]
----	-----	-----	-----

2. 右の略地図を見て、次の問いに答えなさい。


(1) 右の①～③の伝統的な衣服が見られる地域を地図中のA～Iから1つずつ選び、記号で答えなさい。

①	[5]	②	[6]
③	[7]		



(2) 右の④～⑥の住居が見られる地域を地図中のA～Iから1つずつ選び、記号で答えなさい。

④	[8]	⑤	[9]
⑥	[10]		



次ページにつづく▶▶▶

(3) ④の住居について、次の文章中の（ ）にあてはまる語句を答えなさい。

この住居は（ a ）が使用するもので、移動と組み立てがしやすいように、木の骨組みを（ b ）からつくったフェルトでおおう造りになっている。この住居のこの国での名称は（ c ）であるが、同じ民族が暮らす隣国ではパオと呼ばれている。

a	[11]
b	[12]
c	[13]

(4) ⑥の住居にはどのような特色があるか。このような住居がある地域の自然環境と関連させて説明しなさい。

[14]

(5) パン、パスタ、うどん、マントウなどさまざまに加工されて食べられている主食作物を次から1つ選び、記号で答えなさい。

ア 米 イ 小麦 ウ とうもろこし エ いも類

[15]