

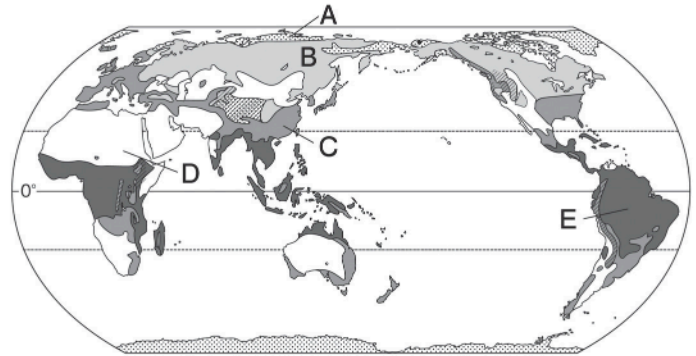
世界の人々の生活と環境

世界の人々の生活と環境 A

🕒 7分

1. 右の略地図を見て、次の問いに答えなさい。

(1) 次の①～③の文章で述べている気候帯を地図中のA～Eから1つずつ選び、記号で答えなさい。また、文章中の()にあてはまる語句を答えなさい。



- ① 降水量が極端に少なく、砂漠が広がるところが多い。雨がわずかに降るところには、()と呼ばれるたけの短い草原が広がる。

記号	[1]	語句	[2]
----	-----	----	-----

- ② 夏が短く冬が長い気候で、北半球のみに分布する。()と呼ばれる針葉樹林帯が広がっている。

記号	[3]	語句	[4]
----	-----	----	-----

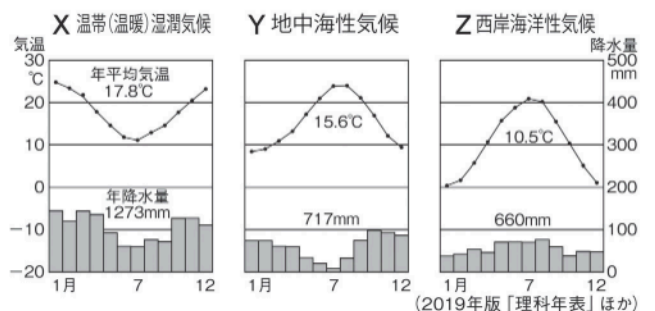
- ③ 一年中気温が低く、雪や氷におおわれる期間が長い。夏に地表の雪や氷がとけて()類が生えるところもある。

記号	[5]	語句	[6]
----	-----	----	-----

(2) Cの気候帯はさらに3つに分けられ、右のX～Zの雨温図がそれぞれの気候の特色を示している。この雨温図を見て、次の問いに答えなさい。

- ① 次の文の()にあてはまる語句を答えなさい。

Xの気温のグラフの形がほかの2つと異なっているのは、Xの気温のグラフが示す都市が()に位置しているためである。



[7]

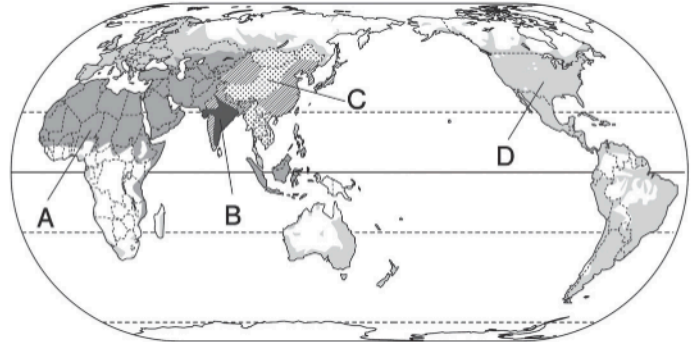
次ページにつづく▶▶▶

- ② Zが示す気候について、西ヨーロッパの国々に見られる気候の特色を、影響をおよぼす風と海流の名称を使って説明しなさい。

[8]

2. 右の略地図を見て、次の問いに答えなさい。

- (1) 豚肉を食べてはいけないとされている宗教を信仰する人が多い地域を、地図中から1つ選び、記号と宗教名を答えなさい。



記号	[9]	宗教名	[10]
----	-----	-----	------

- (2) (1)の宗教の教典を何というか。

[11]

- (3) 日本にはCのほかに、さまざまな神をまつる宗教がある。日本独自のこの宗教を何というか。

[12]