

世界の諸地域①

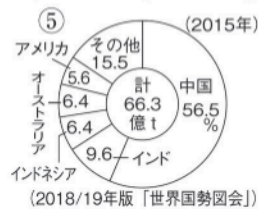
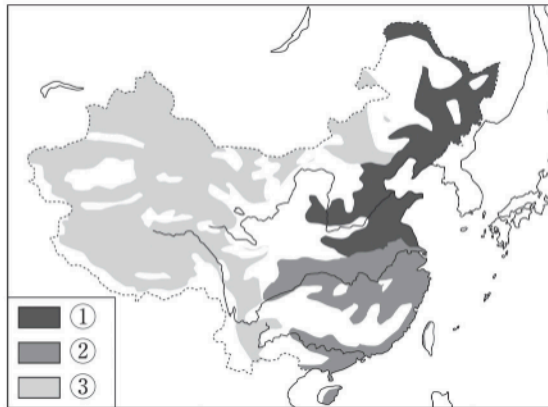
基本事項の確認

🕒 10分

1. 産業

(1) 次の略地図中の①～③にあてはまる農作物名または農業名を答えなさい。また、④はある農産物の国別生産量割合、⑤はある鉱産資源の国別生産量割合を示している。その農産物名、鉱産資源名を答えなさい。

[1][2][3][4][5]

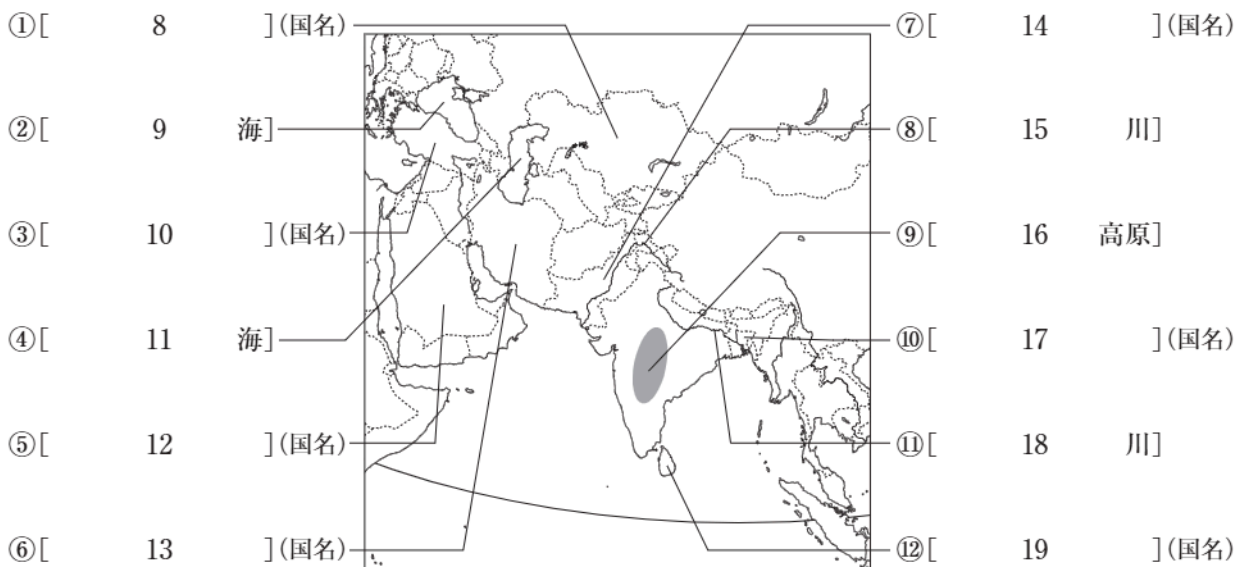


(2) 植民地時代の東南アジアに開かれた、主に熱帯作物を大規模に栽培する大農園を何と
いうか、答えなさい。 [6]

(3) 東南アジアの10か国が加盟している政治・経済の協力機構をアルファベットで答え
なさい。 [7]

2. 自然環境

(1) 次の略地図中の①～⑫にあてはまる地名・国名を答えなさい。



次ページにつづく▶▶▶

3. 自然環境

(1) 次の略地図中の①～⑫にあてはまる地名・国名を答えなさい。

①[20]	(国名)	⑥[25	半島]	
②[21	洋]		⑦[26]	(国名)
③[22	川]		⑧[27	海]	
④[23	海]		⑨[28]	(国名)
⑤[24	山脈]		⑩[29	海]	
				⑪[30	川]	
				⑫[31]	(国名)

4. 自然環境

(1) 次の略地図中の①～⑩にあてはまる地名・国名を答えなさい。

①[32	海]					
②[33	砂漠]		⑦ [38]	(国名)
③[34]	(国名)	⑧ [39	川]	
④[35	湾]		⑨ [40]	(国名)
⑤[36	川]		⑩ [41]	(国名)
⑥[37]	(国名)				