

回路・電流計と電圧計

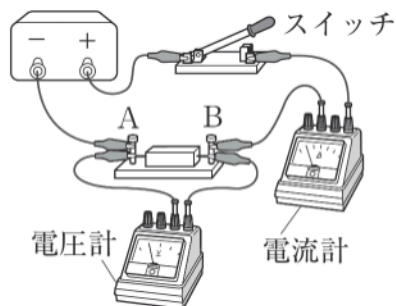
回路・回路図 C

🕒 5分

1. 次の問いに問いに答えなさい

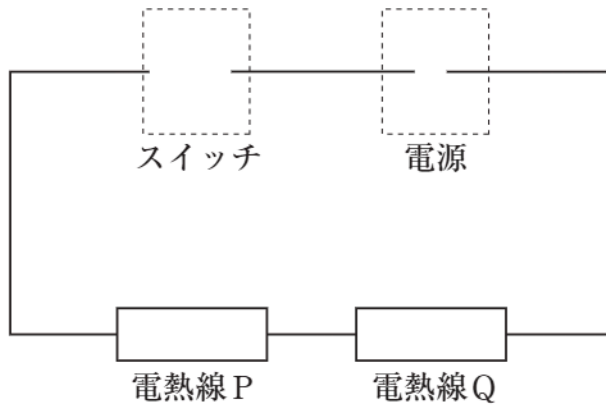
(1) 電気用図記号を使って、図1の回路を表す回路図を書きなさい。

図1



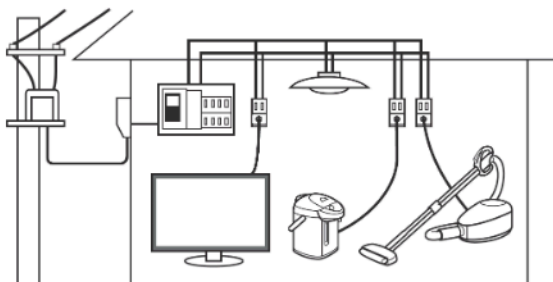
[1]

(2) 電熱線 P・Q, スイッチ, 電源をつないだ直列回路をつくった。破線で囲まれた部分にスイッチと電源を表す記号を記入して図の回路図を完成させなさい。ただし, 電源の+極側は電熱線 Q につながれている。



[2]

2. 図は, 家庭の屋内配線を表したものである。コンセントにつながれた電気用具は, たがいに直列, 並列のどちらのつなぎ方になっているといえるか。



[3]