

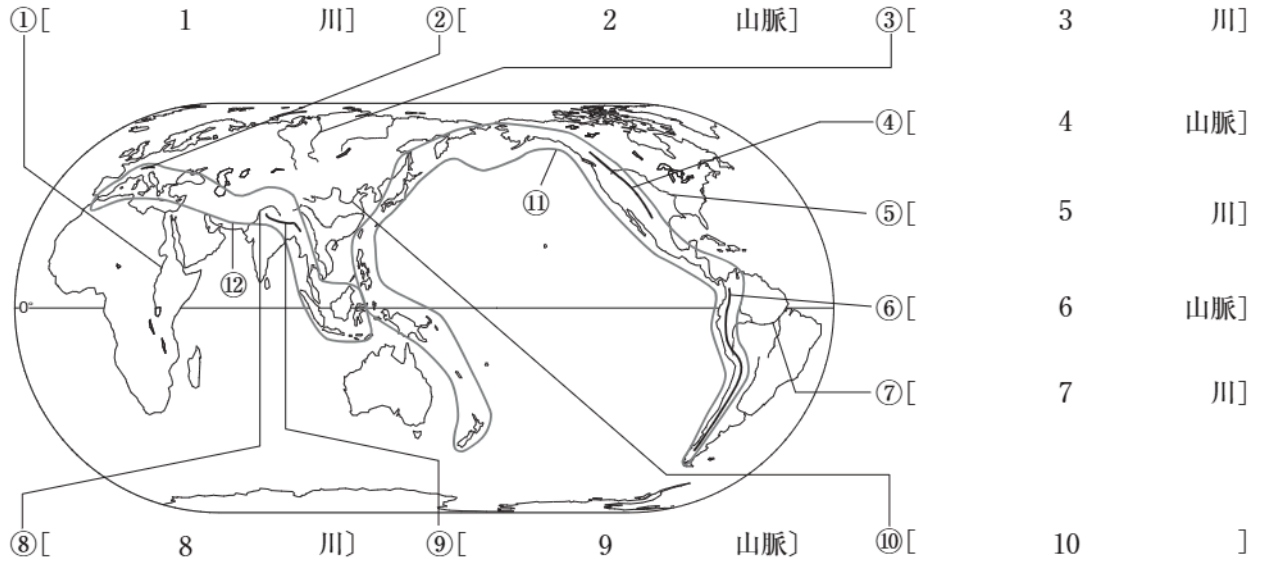
世界の人々の生活と環境

基本事項の確認

🕒 10分

1. 世界の地形

(1) 次の略地図中の①～⑩にあてはまる川と山脈の名を答えなさい。

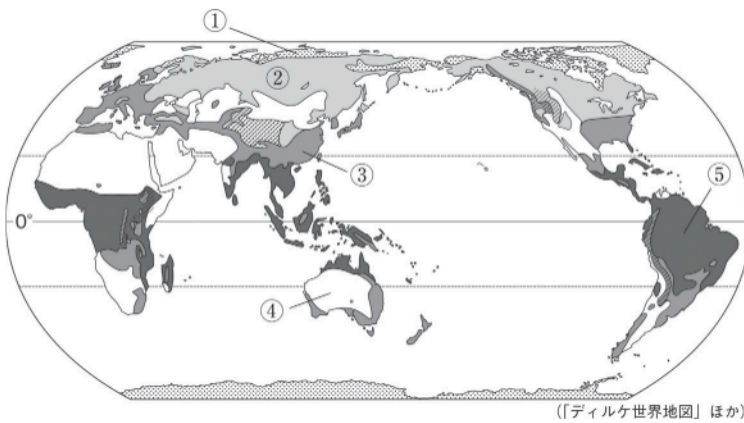


(2) 地図中の⑪・⑫の造山帯の名を答えなさい。 [11] [12]

2. 世界の気候

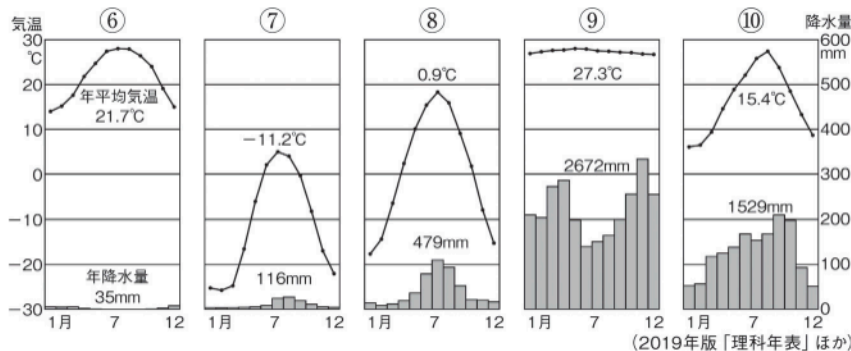
(1) 次の略地図中の①～⑤にあてはまる気候帯の名を答えなさい。

[13] [14] [15] [16] [17]



(2) 次の⑥～⑩の雨温図の特色にあてはまる気候帯の名を答えなさい。

[18] [19] [20] [21] [22]



次ページにつづく ▶▶▶

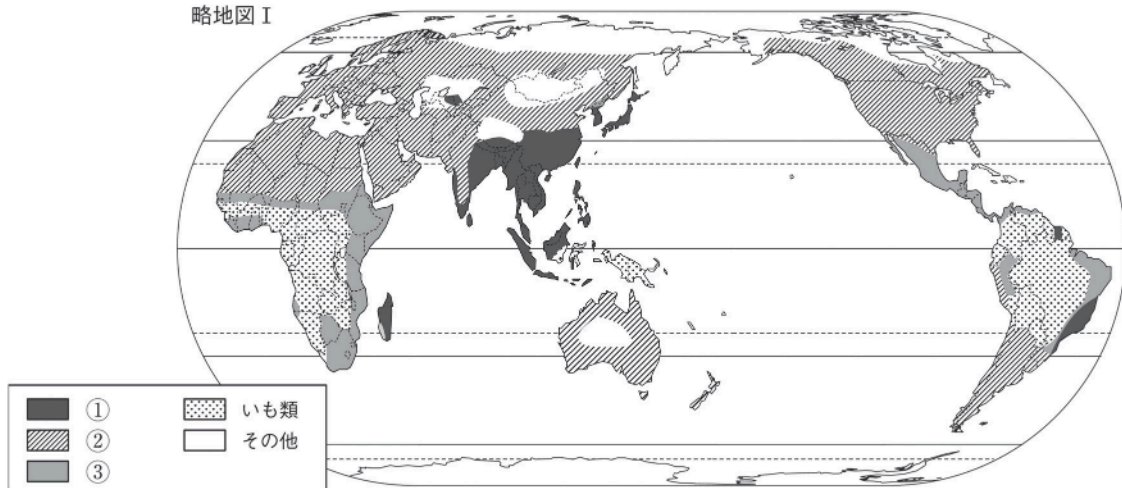
3. 世界各地の伝統的な暮らし

- (1) カナダ北部に暮らす先住民を何というか。 [23]
- (2) (1)の人々が、狩りをするときにつくっていた氷の家を何というか。 [24]
- (3) アラビア半島の遊牧民を何というか。 [25]
- (4) 南アメリカ大陸の先住民を何というか。 [26]
- (5) アンデス山脈に住む(4)の人々が身に付けてきた、頭からすっぽりかぶる形で、脱ぎ着のしやすい衣服を何というか。 [27]
- (6) アンデス山脈に住む(4)の人々の主食は何か。 [28]
- (7) オランダの干拓地を何というか。 [29]
- (8) オランダなどで盛んな、乳牛を飼って生乳や乳製品を生産する農牧業を何というか。 [30]

4. 世界の生活・文化

- (1) 次の略地図Ⅰ中の①～③にあてはまる主食を、米、小麦、とうもろこし・雑穀から選んで答えなさい。 [31][32][33]

略地図Ⅰ



- (2) 動物の毛皮を衣服の材料とするのは、寒い地域と暑い地域のどちらか。 [34]
- (3) 雨がほとんど降らない地域で見られる住居の材料は、木と土のどちらか。 [35]
- (4) 次の略地図Ⅱ中の④～⑦にあてはまる宗教名を答えなさい。 [36][37][38][39]

略地図Ⅱ

