


世界と日本の姿①「地域構成」

日本の姿 A

 7分

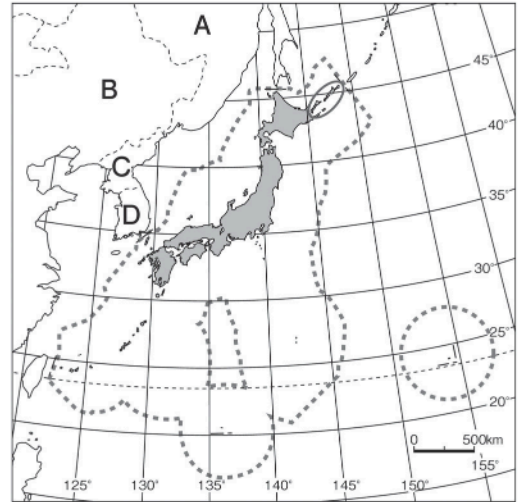
1. 右の略地図を見て、次の問いに答えなさい。


- (1)  は、日本の排他的経済水域の範囲を示している。排他的経済水域は、海岸から何海里までの範囲とされているか。

[1]

- (2) 排他的経済水域について、簡単に説明しなさい。

[2]



- (3)  は日本固有の領土であるが、第二次世界大戦後からある国に占拠されている。現在この島々を占拠している国を地図中のA～Dから1つ選び、記号と国名を答えなさい。

記号	[3]	国名	[4]
----	-----	----	-----

2. 右の略地図を見て、次の問いに答えなさい。

- (1) 47都道府県のうち、県はいくつあるか。

[5]

- (2) ①宮城県、②愛媛県の県庁所在地名を答えなさい。

①		[6]
②		[7]



- (3) A・B地方にふくまれない県をAはア～エから、Bはオ～クから1つずつ選び、記号で答えなさい。

- | | | | |
|-------|-------|-------|-------|
| ア 茨城県 | イ 千葉県 | ウ 栃木県 | エ 山梨県 |
| オ 福岡県 | カ 山口県 | キ 大分県 | ク 沖縄県 |

A	[8]	B	[9]
---	-----	---	-----