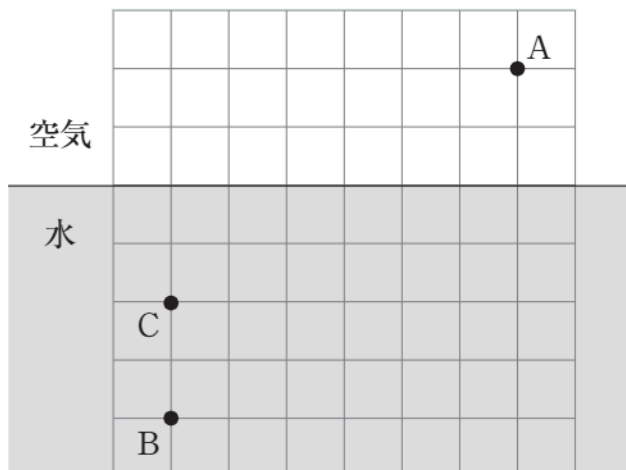


光による現象

# 光の屈折 C

🕒 5分

1. 図の点 A から、水中の点 B にある物体を見たとき、点 C の位置にあるように見えた。このときの光の道すじを点 B から点 A に向かって矢印で示しなさい。



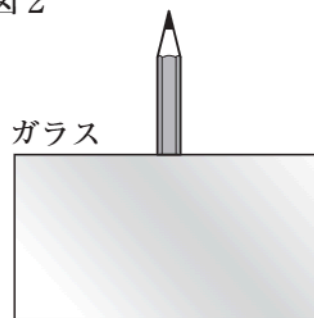
[1]

2. 図1のように、直方体のガラスと鉛筆を机に立て、図2のようにガラスを通して鉛筆を見た。このとき鉛筆の下半分はどのように見えるか。ア～エから選びなさい。

図1 <上から見た図>



図2

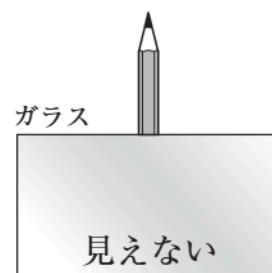
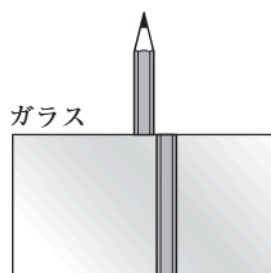
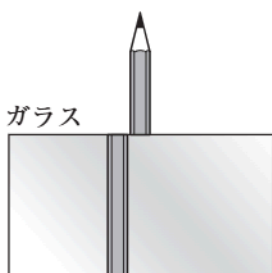
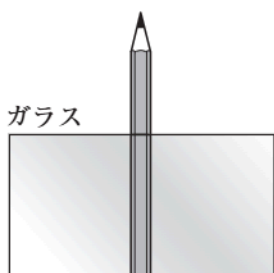


ア

イ

ウ

エ



[2]