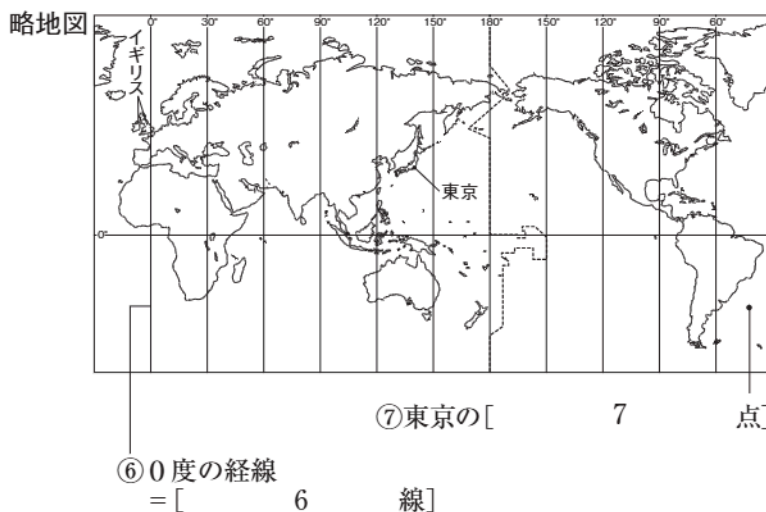
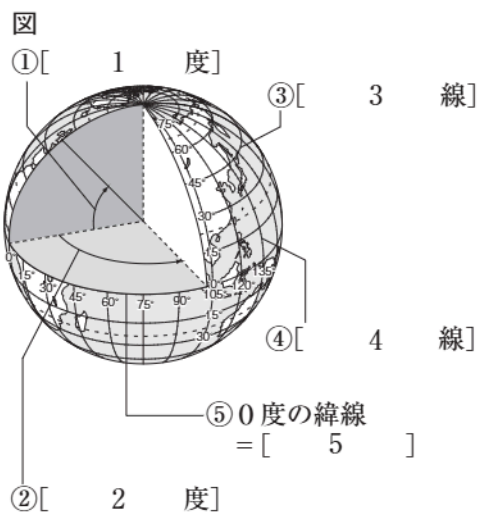


世界と日本の姿②「地図の活用」

基本事項の確認

🕒 10分

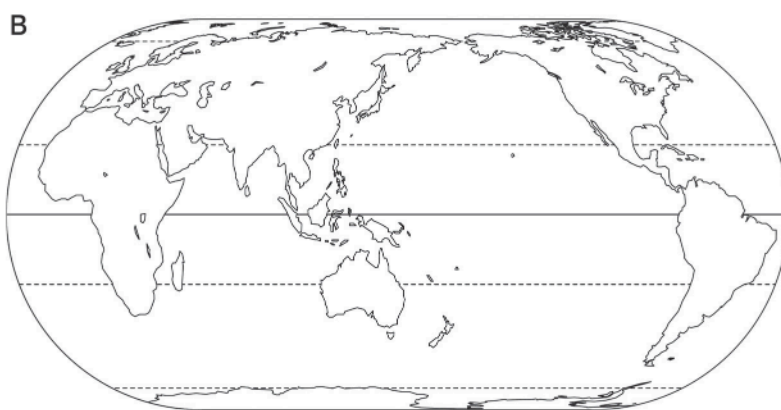
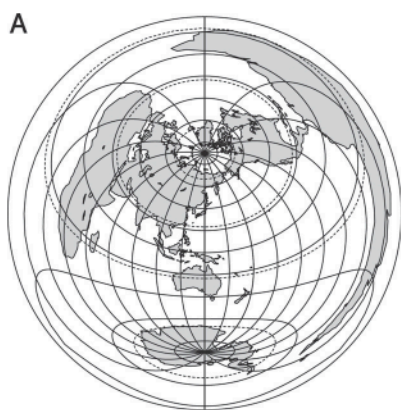
1. 地球上の位置



- 図中の①～⑤，略地図中の⑥・⑦にあてはまる語句を答えなさい。
- 高緯度の地域で夏に見られる，太陽が深く沈まないでうす明るいままの夜を何というか。 [8]

2. 地球の姿を見る

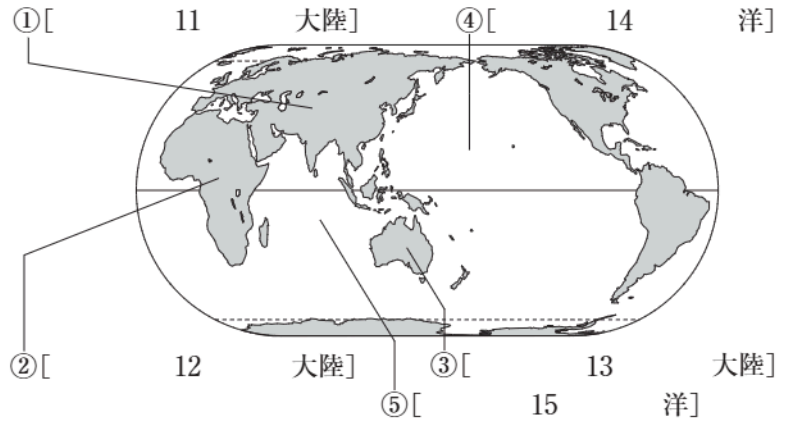
- 地球上の距離，面積，方位，角度のすべてを正しく表した地球の模型を何というか。 [9]
- 次の略地図A・Bのうち，中心からの距離と方位を正しく表しているのはどちらか。 [10]



次ページにつづく▶▶▶

3. 地球の姿

- (1) 右の略地図中の①～③にあてはまる大陸名, ④・⑤にあてはまる大洋名を答えなさい。
- (2) 陸地と海洋の面積の比率は, およそ何：何か。整数で答えなさい。 [16]



4. 地形図のきまり

- (1) 次の①～⑳の地図記号が表しているものは何か。

| | | | | | | | | | | | | | |
|---|---|----|---|---|---|---|----|---|---|---|---|----|---|
| ① | | 17 |] | ⑨ | Y | [| 25 |] | ⑰ | 卍 | [| 33 |] |
| ② | | 18 |] | ⑩ | ☉ | [| 26 |] | ⑱ | 卍 | [| 34 |] |
| ③ | | 19 |] | ⑪ | ☼ | [| 27 |] | ⑲ | 卍 | [| 35 |] |
| ④ | | 20 |] | ⑫ | ☼ | [| 28 |] | ⑳ | 卍 | [| 36 |] |
| ⑤ | | 21 |] | ⑬ | 文 | [| 29 |] | ㉑ | 卍 | [| 37 |] |
| ⑥ | ◎ | 22 |] | ⑭ | ⊗ | [| 30 |] | ㉒ | 卍 | [| 38 |] |
| ⑦ | ⊗ | 23 |] | ⑮ | 卍 | [| 31 |] | ㉓ | △ | [| 39 |] |
| ⑧ | X | 24 |] | ⑯ | 卍 | [| 32 |] | ㉔ | □ | [| 40 |] |

- (2) 地形図の縮尺について, 次の問いに答えなさい。

- ① 2万5千分の1の縮尺の地形図上で1 cmの長さは, 実際には何mの距離になるか。 [41]
- ② 5万分の1の縮尺の地形図上で1 cmの長さは, 実際には何mの距離になるか。 [42]
- ③ 2万5千分の1の縮尺の地形図上で8 cmの長さは, 実際には何kmの距離になるか。 [43]
- ④ 5万分の1の縮尺の地形図上で8 cmの長さは, 実際には何kmの距離になるか。 [44]