

日本の諸地域②

関東地方 A

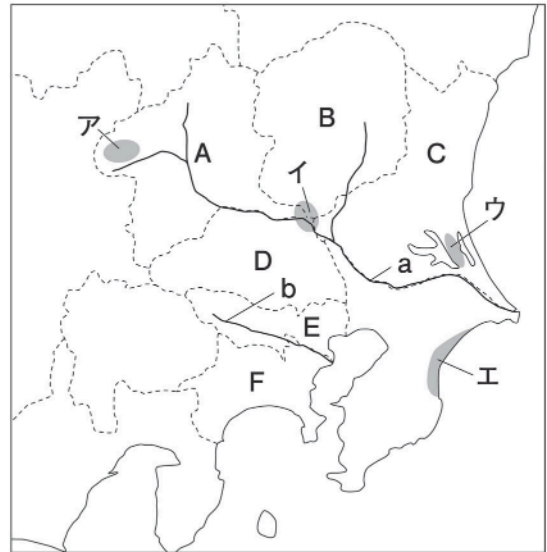
 7分

1. 右の略地図を見て、次の問いに答えなさい。

(1) a・bの河川の組み合わせとして最も適当なものを次から1つ選び、記号で答えなさい。

- ア a - 利根川 b - 多摩川
- イ a - 利根川 b - 荒川
- ウ a - 江戸川 b - 多摩川
- エ a - 江戸川 b - 荒川

[1]



(2) 冬の関東地方に乾燥した風がふく理由を、「季節風」の語句を用いて簡単に説明しなさい。

[2]

(3) 高冷地農業によってキャベツなどが栽培されている地域を、地図中のア～エから1つ選び、記号で答えなさい。

[3]

(4) 次の文中の①・②にあてはまる語句を答えなさい。

近郊農業は大都市の近くで行われるため、宮崎平野や高知平野などのように、都市からはなれたところで行われる（ ① ）農業で生産された農産物よりも、（ ② ）な状態で市場に出荷できる。

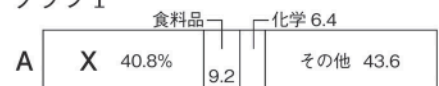
①		[4]
②		[5]

(5) 右のグラフⅠは、地図中のA・Bの県の産業別工業出荷額割合を示している。A・Bに共通のXにあてはまるものを次から1つ選び、記号で答えなさい。

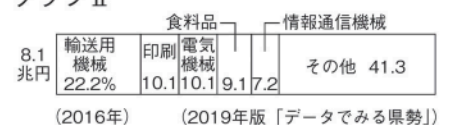
- ア せんい イ 鉄鋼
- ウ 情報通信機械 エ 輸送用機械

[6]

グラフⅠ



グラフⅡ



(6) 右のグラフⅡは、関東地方の都県の産業別工業出荷額割合を示している。あてはまる都県を地図中のC～Fから1つ選び、記号で答えなさい。

[7]