

日本の諸地域①

中部地方 C

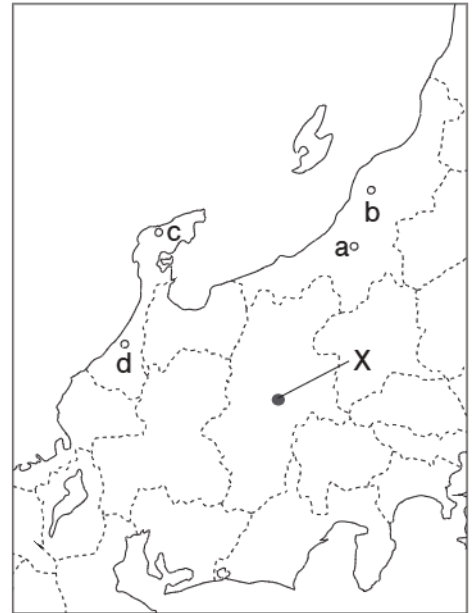
🕒 7分

1. 右の略地図を見て、次の問いに答えなさい。

(1) Xの盆地で特に発達している工業を次から1つ選び、記号で答えなさい。

- ア 鉄鋼業 イ 石油化学工業
- ウ 自動車工業 エ 電子部品工業
- オ せんい工業

[1]



(2) a～dの都市と、その都市で発達している伝統産業の組み合わせとして最も適当なものを次から1つ選び、記号で答えなさい。

- ア a - 美濃焼 イ b - 越前和紙
- ウ c - 輪島塗 エ d - 西陣織

[2]

(3) 右の表は、四大公害病のうち、中部地方で発生したものについてまとめたものである。表中の①、②にあてはまる語句を答えなさい。

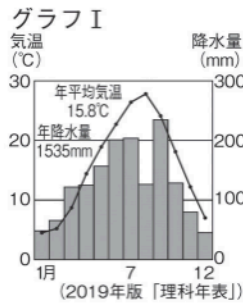
病名	新潟水俣病	(②)病
発生地域	(①)川下流域 (新潟県)	神通川流域 (富山県)
原因	化学工場の廃液に ふくまれていた有機水銀	鉱山の廃液にふく まれていたカドミウム

①		[3]
②		[4]

次ページにつづく ▶▶▶

2. 右の略地図を見て、次の問いに答えなさい。

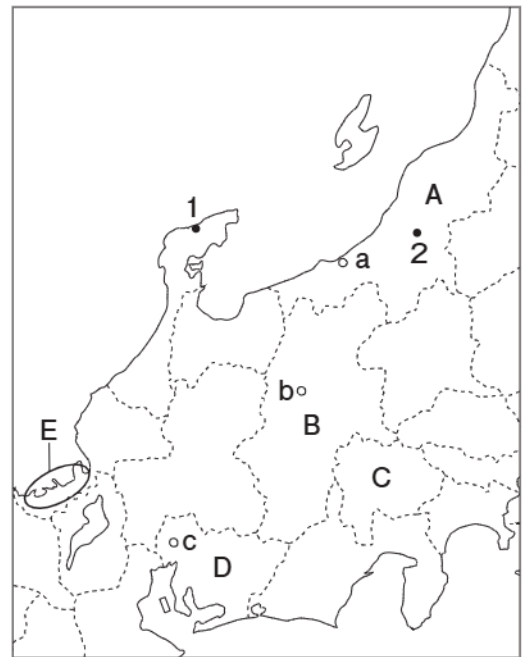
- (1) 右のグラフ I は、地図中の a ~ c のいずれかの都市の気温と降水量を示している。あてはまる都市を 1 つ選び、記号で答えなさい。



[5]

- (2) 右下のグラフ II は、地図中の A ~ D の県の農業産出額の内訳を示している。D の県にあてはまるものをア ~ エから 1 つ選び、記号で答えなさい。

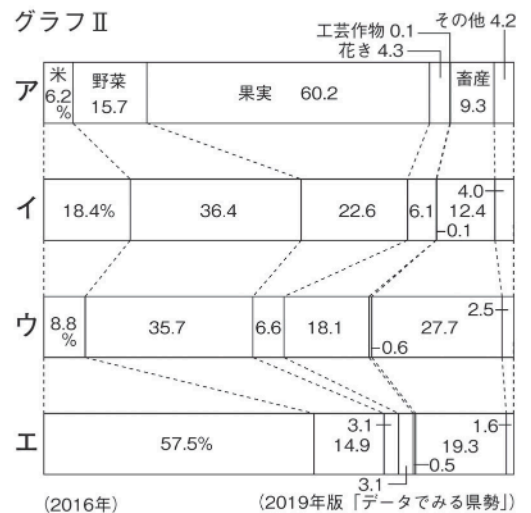
[6]



- (3) 1, 2 の都市で生産されている伝統的工芸品の組み合わせとして最も適当なものを次から 1 つ選び、記号で答えなさい。

- ア 1 - 小千谷縮^{おちやちぢみ} 2 - 西陣織^{にしじんおり}
 イ 1 - 小千谷縮^{おちやちぢみ} 2 - 輪島塗^{わじまぬり}
 ウ 1 - 輪島塗 2 - 小千谷縮
 エ 1 - 輪島塗 2 - 西陣織

[7]



- (4) E で示した地域には、ある発電所が多く見られる。この発電所の種類を答えなさい。

[8]