

世界と日本の姿①「地域構成」

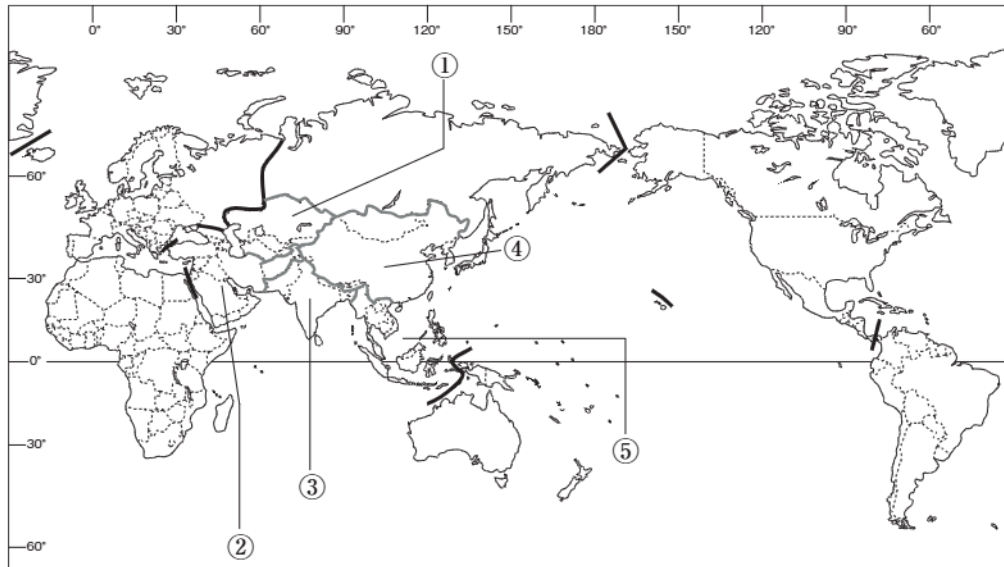
基本事項の確認

🕒 10分

1. 世界の姿

(1) 地図中の①～⑤にあてはまるアジアの地域名を答えなさい。

[1] [2] [3] [4] [5]

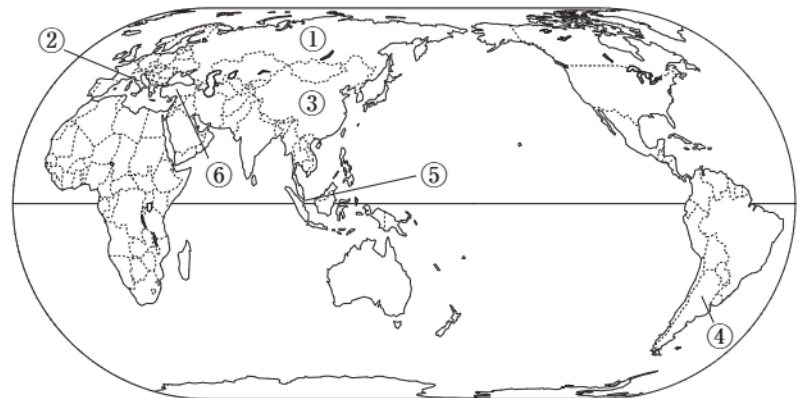


(2) 独立国として認められるために必要な条件とは、国民、主権とあと1つは何か。 [6]

(3) 地図中に見られる直線的な国境線は、主に何を利用して引かれたものか。 [7]

2. 世界の国々

(1) 次の①～⑥は、右の略地図中の同じ番号の国の特色を示している。それぞれにあてはまる国名を答えなさい。



① 面積が世界で最も大きい。

[8]

② 面積が世界で最も小さい。

[9]

③ 人口が世界で最も多い。

[10]

④ 日本から見て、地球の反対側に位置する国の一つ。

[11]

⑤ 国名が「ライオンの町」という意味。

[12]

⑥ 国旗に三日月と星がデザインされている。

[13]

(2) 国土全体が海に囲まれている国を何というか。漢字3字で答えよ。

[14]

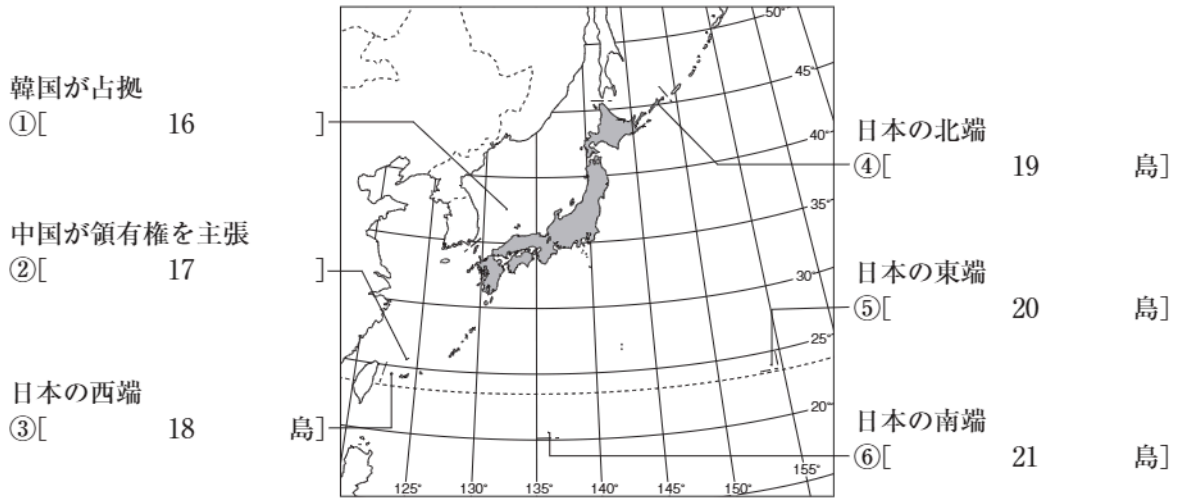
(3) 海にまったく面していない国を何というか。

[15]

次ページにつづく▶▶▶

3. 日本の範囲

(1) 次の略地図中の①～⑥にあてはまる島の名を答えなさい。



4. <都道府県> ①～⑳にあてはまる都道府県名, 都道府県庁所在地名を答えなさい。

