

日本の諸地域①

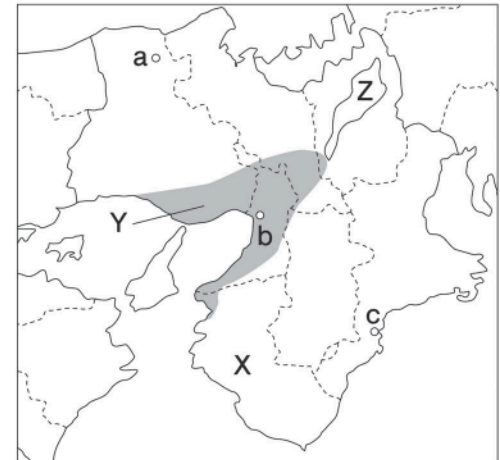
近畿地方 A

🕒 7分

1. 右の略地図を見て、次の問いに答えなさい。

- (1) 右下のグラフは、a～cのいずれかの都市の気温と降水量を示している。cにあてはまるものをア～ウから1つ選び、記号で答えなさい。

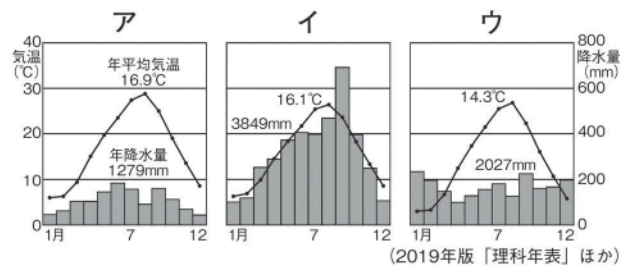
[1]



- (2) Xの県は、収穫されたものの大部分が保存食品に加工される果物の生産量が全国一となっている。この果物を次から1つ選び、記号で答えなさい。

- ア りんご イ さくらんぼ
ウ ぶどう エ うめ

[2]



- (3) Yの工業地帯について述べた文として最も適当なものを次から1つ選び、記号で答えなさい。

- ア 戦前はせんい品の生産を中心とした軽工業が発達しており、日本一の工業地帯であった。
- イ 第二次世界大戦中から生産額が増え、臨海部に重化学工業、中心部で出版とともに印刷業が発達している。
- ウ 戦争で得た賠償金^{ばいしょうきん}で建設された官営の製鉄所を中心に鉄鋼業が発達した。
- エ 古くからせんいや陶磁器産業^{とうじき}が発達していたが、第二次世界大戦中から航空機や自動車などの重工業が発達した。

[3]

- (4) 次の文章中の①～③にあてはまる語句を答えなさい。

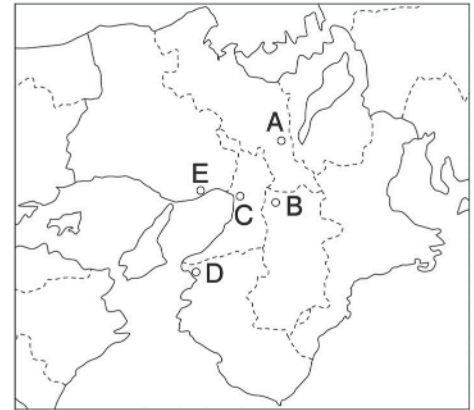
Zの(①)湖は京阪神地方の水がめとして重要であるが、工業の発達や人口の増加によって湖水の汚染が進んだ。国は法律で(②)の規制を行い、県は条例でリンをふくむ合成洗剤の使用を禁止するなどして環境改善に努めている。また、(③)条約に登録され、環境保全の運動が行われている。

①		②	
	[4]		[5]
③			[6]

次ページにつづく▶▶▶

2. 右の略地図を見て、次の各文にあてはまる都市をA～Eから1つずつ選び、記号で答えなさい。また、文中の（ ）にあてはまる語句を答えなさい。

- (1) 明治時代に東京が首都となるまで1000年以上都があったことから、歴史的な文化財が多く残っており、多くの建造物が（ ）に登録されている。



記号	[7]
語句	[8]

- (2) 1995年におきた（ ）大震災で、多くの建物が倒壊や火災などにより大きな被害を受けた。

記号	[9]
語句	[10]

- (3) 江戸時代に全国から物資が集まったことから（ ）とよばれ、現在は卸売業が発達している。

記号	[11]
語句	[12]