

日本の諸地域①

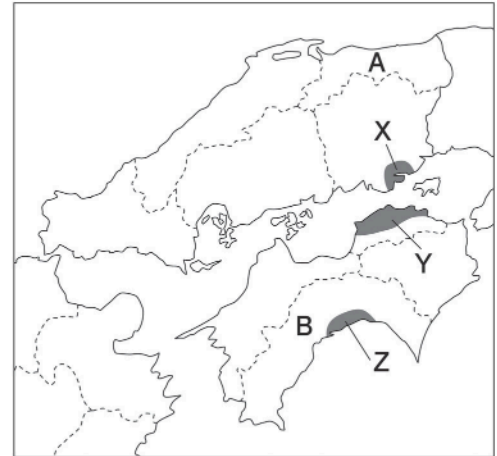
# 中国・四国地方 A

🕒 7分

1. 右の略地図を見て、次の問いに答えなさい。

(1) X・Y・Zの平野の組み合わせとして最も適切なものを次から1つ選び、記号で答えなさい。

- ア X - 岡山平野 Y - 高知平野 Z - 讃岐平野
- イ X - 讃岐平野 Y - 岡山平野 Z - 高知平野
- ウ X - 高知平野 Y - 讃岐平野 Z - 岡山平野
- エ X - 岡山平野 Y - 讃岐平野 Z - 高知平野



[1]

(2) Yの平野では、古くからつくられた多くのため池が見られる。このことからわかる、この平野の気候の特色を、簡単に説明しなさい。

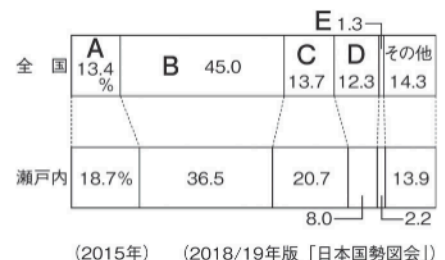
[2]

(3) A・Bの県について述べた文として最も適切なものを次から1つずつ選び、記号で答えなさい。

- ア 沿岸の埋立地などに石油化学コンビナートが広がっている。
- イ 温暖な気候を利用して、ビニールハウスなどで野菜の促成栽培が行われている。
- ウ 段々畑などでみかんの栽培がさかんに行われている。
- エ 砂丘地域でらっきょうなどが栽培され、日本なしの生産もさかんに行われている。

A	[3]	B	[4]
---	-----	---	-----

(4) 右のグラフは、全国と瀬戸内工業地域の工業別出荷額割合を示している。瀬戸内工業地域のほうが全国よりも割合が大きいA・Cにあてはまる工業の種類を次から1つずつ選び、記号で答えなさい。



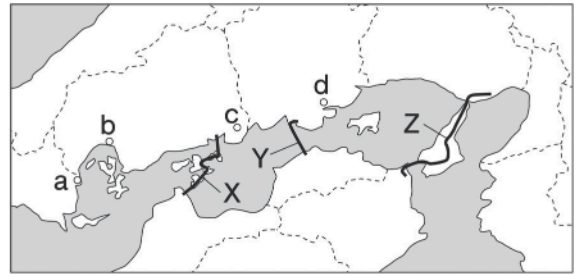
- ア 機械
- イ 化学
- ウ 食料品
- エ せんい
- オ 金属

A	[5]	C	[6]
---	-----	---	-----

次ページにつづく▶▶▶

2. 右の略地図を見て、次の問いに答えなさい。

- (1) 第二次世界大戦末期の1945年8月6日に原子爆弾が投下された都市をa～dから1つ選び、記号とその都市名を答えなさい。



記号	[7]
都市名	[8]

- (2) 本州四国連絡橋のうち、四国地方と中国地方以外を結ぶルートを図中のX～Zから1つ選び、記号で答えなさい。

[9]

- (3) 本州四国連絡橋の開通によっておきた変化について述べた文として不適當なものを次から1つ選び、記号で答えなさい。

- ア 天候に左右されずに本州と四国の間を移動できるようになったが、フェリーよりも時間がかかる。
- イ 橋の建設による自然破壊や、新たに騒音の問題などもおきている。
- ウ フェリーが廃止され、一部の住民には不便になった。

[10]