

日本の特色③「資源と産業・交通と通信」

工業・商業・サービス業・交通・通信 **A**  7分

1. 次の問いに答えなさい。

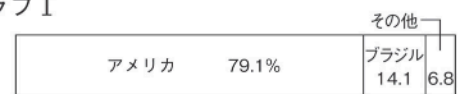
- (1) 1980年代後半に、日本とアメリカ合衆国との間に自動車に関する貿易摩擦がおきたとき、日本の自動車会社はどのようなことを行ったか。「生産」の語句を用いて簡単に説明しなさい。

[1]

- (2) 右のグラフⅠはある農畜産物、グラフⅡはある工業製品の日本の輸入相手国割合を示している。あてはまるものをグラフⅠは次のア～エから、グラフⅡは次のオ～クから1つずつ選び、記号で答えなさい。

- | | |
|-----------|------------|
| ア 肉類 | イ どうもろこし |
| ウ 小麦 | エ 羊毛 |
| オ 自動車 | カ 鉄鋼 |
| キ コンピューター | ク IC（集積回路） |

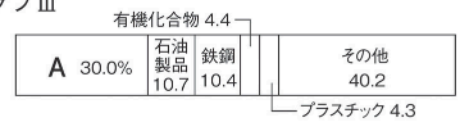
グラフⅠ



グラフⅡ



グラフⅢ



(2017年)

(2018/19年版「日本国勢協会」)

Ⅰ	[2]
Ⅱ	[3]

- (3) 右上のグラフⅢは、韓国から日本への輸出品割合を示している。Aにあてはまる品目を答えなさい。

[4]

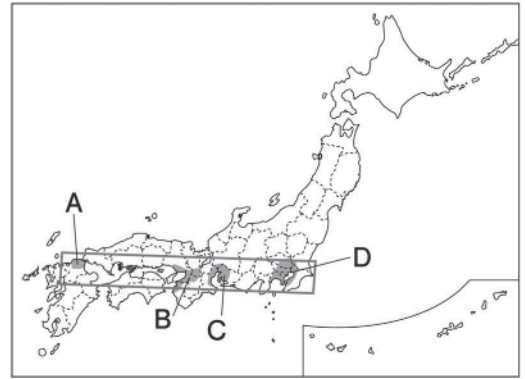
2. 次の問いに答えなさい。

(1) 右の略地図中に で示した地域には工業地帯・地域が集中している。この地域を何というか。

[5]

(2) 右下のグラフは、ある工業地帯・地域の工業生産額の内訳を示している。日本最大の工業生産額となっている、この工業地帯・地域を右の略地図中のA～Dから1つ選び、記号で答えなさい。

[6]



(3) 日本が行ってきた、原料を輸入して製品を輸出する貿易を何というか。

[7]