






気象観測

基本事項の確認

 10分

1. 次の問いに答えなさい。

- (1) 気圧の単位には何が使われるか。カタカナで答えなさい。 [1]
- (2) 天気図記号で、矢ばねの向きが表すものは何か。 [2]
- (3) 気圧が高い日の天気は、晴れと雨のどちらが多いか。①, ②から選びなさい。 [3]
 - ① 晴れ ② 雨
- (4) 気圧が等しい地点を結んだ曲線のことを何というか。 [4]
- (5) まわりより気圧の高いところを何というか。 [5]
- (6) 空全体を10としたとき雲が空をおおっている割合を何というか。 [6]
- (7) 乾湿計において、気温は乾球と湿球のどちらの示度と等しいか。 [7]
- (8) 表のア～クにあてはまる記号や数を選択肢から選びなさい。

天気	快晴	晴れ	くもり	雨	雪
天気記号	ア  [8]	イ  [9]	ウ  [10]	エ  [11]	オ  [12]
雲量	カ [13]	キ [14]	ク [15]	—	—






ア～オの選択肢

- ① 
- ② 
- ③ 
- ④ 
- ⑤ 

カ～クの選択肢

- ① 0～1 ② 0～3 ③ 2～5 ④ 2～8 ⑤ 4～8 ⑥ 7～10
- ⑦ 9～10

(9) 次の天気図の記号が表す風向・風力・天気を読みとりなさい。

天気図の記号	北				
					
風向	ア [16]	イ [17]	ウ [18]	エ [19]	
風力	オ [20]	カ [21]	キ [22]	ク [23]	
天気	ケ [24]	コ [25]	サ [26]	シ [27]	