

日本の特色①「自然環境」

自然環境 C

🕒 7分

1. 次の問いに答えなさい。

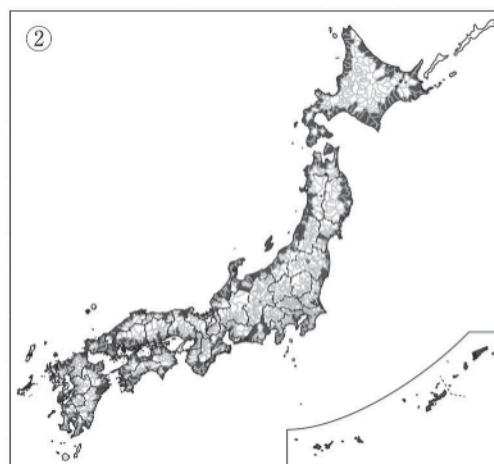
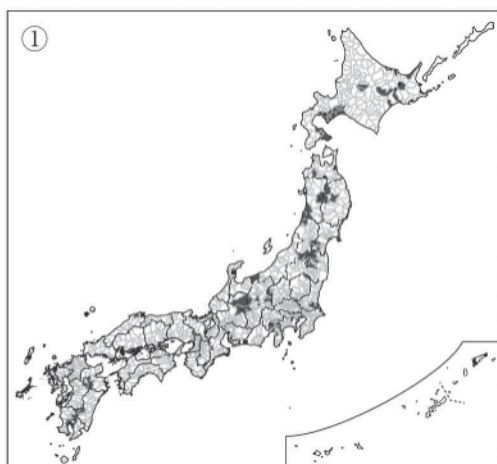
(1) 右の略地図中のXとYは、近年、ある共通の自然災害で大きな被害の出た地域を示している。この自然災害を次から1つ選び、記号で答えなさい。

ア 地震 イ 洪水 ウ 高潮 エ 干害



[1]

(2) 次の①・②の地図は、ある自然災害のハザードマップを作成・公開している地域を黒くぬって表している。どの自然災害を表しているか、あとから1つずつ選び、記号で答えなさい。



ア 土砂崩れ イ 津波 ウ 冷害 エ 火山の噴火

①	[2]	②	[3]
---	-----	---	-----

次ページにつづく▶▶▶

2. 右の略地図を見て、次の問いに答えなさい。

(1) A・Bの気候の特色にあてはまるものを次から1つずつ選び、記号で答えなさい。

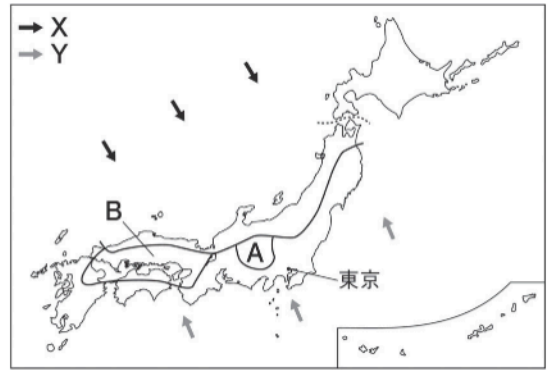
ア 一年じゅう気温が高く、降水量も多い。

イ 夏よりも冬の降水量が多い。

ウ 夏は雨が多く、冬は乾燥した晴天の日が多い。

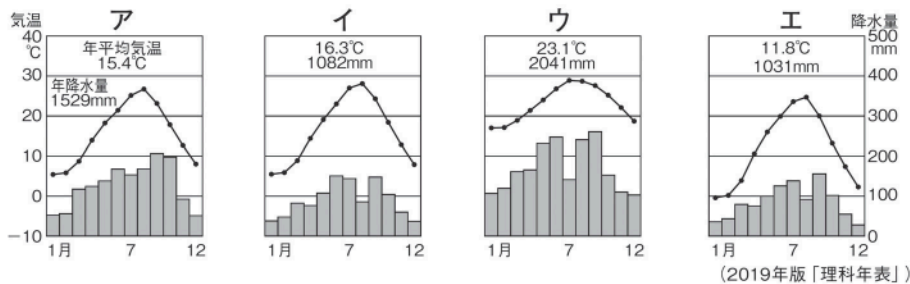
エ 山地によって季節風がさえぎられ、一年を通して降水量が少なく、比較的温暖である。

オ 夏と冬、昼と夜の気温差が大きい。降水量はやや少ない。



A	[4]	B	[5]
---	-------	---	-------

(2) 東京の気温と降水量を表しているグラフを次から1つ選び、記号で答えなさい。



[6]

(3) 冬の季節風の向きを表しているのは、右上の地図中のX・Yのどちらか。

[7]

(4) 次の文章中の①・②にあてはまる語句を答えなさい。

日本の大部分の地域では雨の多い時期が2度ある。一度目は6月から7月にかけて続く長雨の季節の(①), 二度目は夏から秋へ移る時期の秋雨である。また、夏から秋にかけて日本をおそう熱帯低気圧の(②)も、強風とともに大雨をもたらす。

①	[8]
②	[9]