

日本の特色①「自然環境」

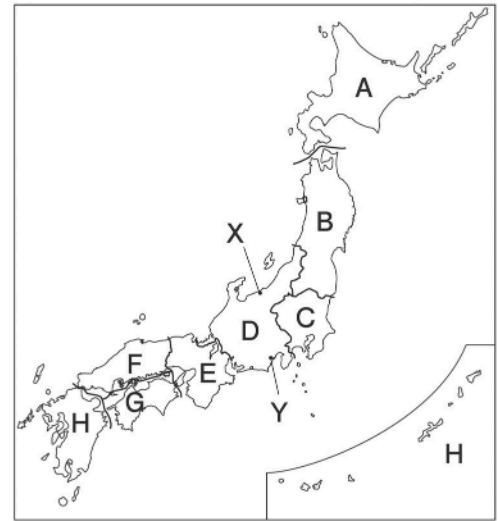
自然環境 B

 7分

1. 右の略地図を見て、次の問いに答えなさい。

(1) 日本を、XとYを結ぶ線で2つに分けたときのよ
び方を答えなさい。

[1]



(2) D・E地方の名を答えなさい。

D		[2]
E		[3]

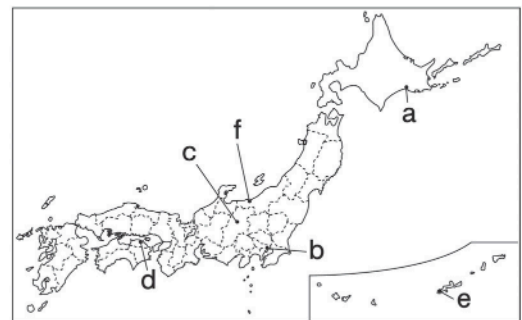
(3) 次の県がふくまれる地方を地図中のA～Hから1つずつ選び、記号で答えなさい。

①	三重県	[4]
②	宮崎県	[5]

2. 次の問いに答えなさい。

(1) 次の文章中の①～③にあてはまる語句を答えな
さい。

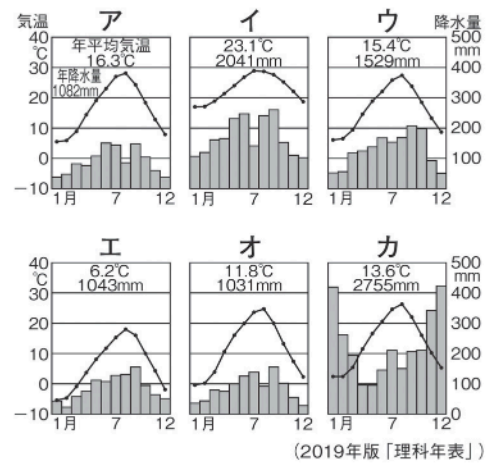
日本は大部分が（ ① ）帯に属しているが、
小笠原諸島などは（ ② ）帯に属している。日
本には四季がはっきりしているという特徴がある
ほか、降水量の多くなる梅雨の期間がある。夏か
ら秋にかけて（ ③ ）が発生すると、局地的な
強風と大雨による被害を受けることがある。



①		[6]
②		[7]
③		[8]

次ページにつづく▶▶▶

(2) 右のア～オのグラフは、前ページの略地図中の a～e の都市の気温と降水量を示している。a・dにあてはまるグラフを1つずつ選び、記号で答えなさい。また、気候区分名も答えなさい。



a		気候区分名	[9]
d		気候区分名	[10]

(3) カのグラフは、fの都市の気温と降水量を示している。このグラフからは冬の降水量が多いことが読み取れるが、その理由を、「季節風」の語句を用いて簡単に説明しなさい。

[11]