

世界の諸地域②

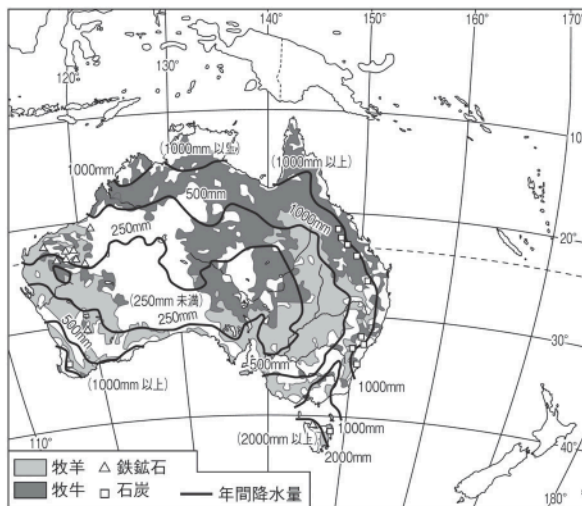
# オセアニア B

🕒 7分

1. 右の略地図を見て、次の問いに答えなさい。

(1) オーストラリアの①牧羊, ②牧牛は, どのような地域で行われているか。簡単に説明しなさい。

①		[1]
②		[2]




(2) 次の文中の ( ) にあてはまる鉱産資源名・語句を答えなさい。

オーストラリアでは, 主に ( ① ) 掘りという方法で, 東部で ( ② ), 北西部で ( ③ ) を大量に産出し, 多くを輸出している。

①		[3]	②		[4]	③		[5]
---	--	-----	---	--	-----	---	--	-----

(3) 右のグラフは, オーストラリアの貿易相手国の変化を示している。A・Bにあてはまる国を次から1つずつ選び, 記号で答えなさい。



ア ニュージーランド    イ 中国    ウ イギリス    エ ドイツ

A		[6]	B		[7]
---	--	-----	---	--	-----

(4) オーストラリアの貿易相手国がグラフのように変化した理由を, 「距離」の語句を用いて簡単に説明しなさい。

[8]

次ページにつづく▶▶▶

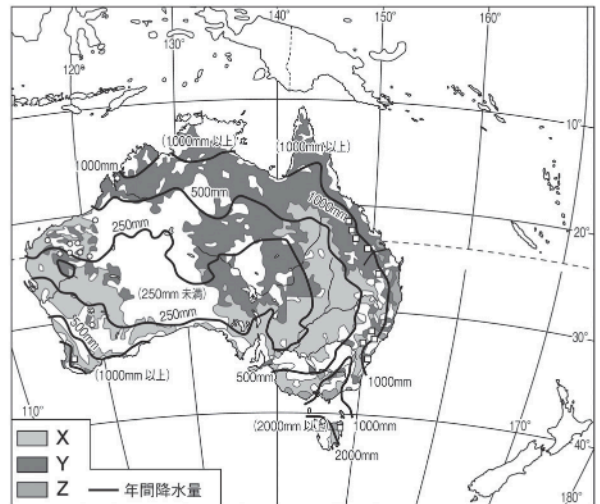
2. 右の略地図を見て、次の問いに答えなさい。

(1) 次の文中の ( ) にあてはまる語句をあとから1つずつ選び、記号で答えなさい。

オーストラリアでは、南西部と南東部のXで( ① ), 北東部のYで( ② ), Zで( ③ )が行われている。

ア 酪農    イ 牧羊    ウ 牧牛

①	[9]	②	[10]
③	[11]		



(2) □と○は、石炭、鉄鉱石のいずれかの産出地を示している。□にあてはまるのはどちらか。

[12]

(3) 現在のオーストラリアの貿易の特色について正しく述べているものを次から1つ選び、記号で答えなさい。

- ア かつて植民地支配されたイギリスとの貿易が中心である。
- イ 貿易相手国はイギリス中心からアジア・太平洋地域中心になった。
- ウ 同じ南半球に位置する南アメリカ大陸にある国々との貿易が中心である。
- エ 貿易相手国は人口の多い中国が約8割をしめている。

[13]